


Adı Soyadı: .....

### 3. SINIF FEN BİLİMLERİ YIL SONU GENEL DEĞERLENDİRME - 2



DOĞRU

YANLIŞ



1. Aşağıdaki eşleştirmelerden yanlış olan hangisidir?

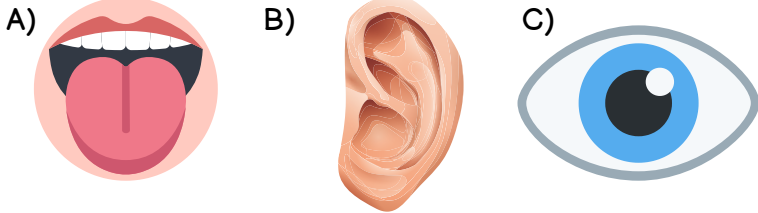
- A) Hava katmanı - Atmosfer
- B) Kara katmanı - Yer kabuğu
- C) Su katmanı - Manto



2. Dünya'nın yuvarlak olduğunu ispatlayan ilk denizci aşağıdakilerden hangisidir?

- A) Piri Reis
- B) Ferdinand Magellan
- C) Amerigo Vespucci

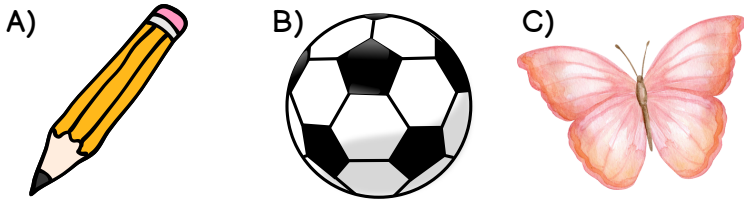
3. Tat almaya yarayan duyu organımız aşağıdakilerden hangisidir?



4. Kerim parkta oynarken kırık cam bulmuş ve elini kesmiştir. Kerim'in canı acımıştır. Kerim canının acımasını hangi duyu organı ile algılamıştır?

- A) burun
- B) deri
- C) kulak

5. Aşağıdakilerden hangisi hareketli bir varlıktır?



- 6. I. Kuvvet cisimleri hızlandırabilir.
- II. Kuvvet cisimlerin şeklini değiştirebilir.
- III. Kuvvet cisimleri yavaşlatabilir.

Verilen bilgilerden doğru olanlar hangileridir?

- A) I ve III
- B) II ve III
- C) I, II ve III

7. Ramazan, duvara yandaki aleti kullanarak bir delik açmıştır. Bu aletin delik açarken yaptığı hareket türü aşağıdakilerden hangisidir?

- A) sallanma
- B) dönme
- C) yavaşlama




8. "Virajı dönen bir otomobil ..... hareketi yapar." cümlesinde boş bırakılan yere hangisi gelmelidir?

- A) yön değiştirme
- B) sallanma
- C) hızlanma



9. Mıknatıs çivilere yaklaştırılınca çiviler mıknatısın ucuna yapışır. Mıknatısın yaptığı bu hareket aşağıdakilerden hangisidir?

- A) itme
- B) çekme
- C) döndürme



10. Sürekli yağın yağmurdan ya da eriyen kar sularından oluşan, geçtiği yerlere zarar veren taşkın suya ne denir?

- A) sel
- B) çığ
- C) hortum



- Eğlence parkında bindiğimiz hızlı trende ayağa kalkmak.
- Bisikletiyle hızla gelen arkadaşımızı durdurmaya çalışmak.
- Arkadaşımızla voleybol oynamak.


11.

Yukarıdakilerden kaç tanesi hareketli cisimlerin neden olabileceği tehlikelere örnektir?

- A) 1
- B) 2
- C) 3



12.



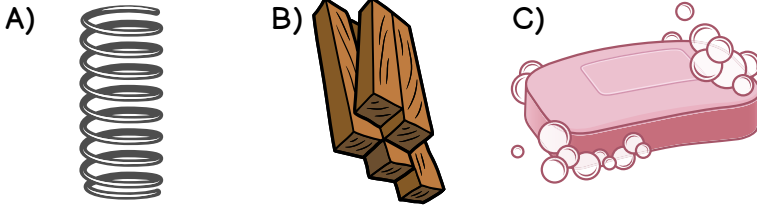
Aşağıdaki maddeyi niteleyen özelliklerden hangisi yukarıda görseli verilen alete ait değildir?

- A) sert B) pürüzlü C) kırılkan

13. Uygulanan kuvvet kaldırıldığında eski haline dönen maddelere ne denir?

- A) kokulu madde  
B) esnek madde  
C) pürüzlü madde

14. Aşağıdaki maddelerden hangisi hem pürüzlü hem de esnektir?



15. Aşağıdakilerden hangisi maddeyi niteleyen özelliklerden biri değildir?

- A) renk  
B) sertlik  
C) tat



16.

Görselleri verilen maddelerin kaç tanesi sıvıdır?

- A) 3  
B) 4  
C) 5

17. İnsanlar tarafından üretilmeyen, doğada kendiliğinden var olan ışık kaynaklarına ne ad verilir?


- A) Yapay ışık kaynakları  
B) Doğal ışık kaynakları  
C) Canlı ışık kaynakları

18. Ses kaynakları ile ilgili verilen bilgilerden hangisi yanlıştır?


- A) Ses kaynağına yaklaştıkça sesin şiddeti artar.  
B) Flüt sesi yapay ses kaynağıdır.  
C) Kulağımızın algıladığı tüm sesler yapay ses kaynaklarından çıkan seslerdir.

19. Verilen ifadelerden doğru olan hangisidir?

- A) Bitkiler yaprakların dökerek boşaltım yaparlar.  
B) Bitkiler kendi besinlerini üretemezler.  
C) Bitkiler hareket edemezler.



20. Aşağıdaki varlıklardan hangisi şehir elektriği ile çalışır?



### CEVAPLAR

- 1 A B C  
2 A B C  
3 A B C  
4 A B C  
5 A B C  
6 A B C  
7 A B C  
8 A B C  
9 A B C  
10 A B C

- 11 A B C  
12 A B C  
13 A B C  
14 A B C  
15 A B C  
16 A B C  
17 A B C  
18 A B C  
19 A B C  
20 A B C



optimistogretmen

Başarılar dilerim...



### 3. SINIF FEN BİLİMLERİ YIL SONU GENEL DEĞERLENDİRME - 2 CEVAP ANAHTARI



|    |   |
|----|---|
| 1  | C |
| 2  | B |
| 3  | A |
| 4  | B |
| 5  | C |
| 6  | C |
| 7  | B |
| 8  | A |
| 9  | B |
| 10 | A |

|    |   |
|----|---|
| 11 | B |
| 12 | C |
| 13 | B |
| 14 | A |
| 15 | C |
| 16 | A |
| 17 | B |
| 18 | C |
| 19 | A |
| 20 | B |

